

Afdeling A

1. **Kyk na die getal 24 865**

- a) Watter syfer staan in die duisende se plek? _____
- b) Wat is die plekwaarde van die 5? _____
- c) Die getal afgerond tot die naaste honderd? _____ (3)

2. **Voltooi die volgende getalle sin.**

- a) $6\ 030 = 6\ 000 + \underline{\hspace{2cm}}$ b) $60\ 920 = \underline{\hspace{2cm}} + \underline{\hspace{2cm}} + \underline{\hspace{2cm}}$ (2)

3. **Voltooi die volgende bewerkings:**

- | | | | | | |
|----|--|------|----|--|------|
| a) | $\begin{array}{r} 18 \\ \times 16 \\ \hline \end{array}$ | (3) | b) | $\begin{array}{r} 24 \\ \times 32 \\ \hline \end{array}$ | (3) |
| c) | $4 \overline{) 3752}$ | (2½) | d) | $14 \overline{) 4772}$ | (2½) |
| e) | $\begin{array}{r} 127 \\ + 351 \\ \hline \end{array}$ | (1) | f) | $\begin{array}{r} 3725 \\ - 1351 \\ \hline \end{array}$ | (1) |
| g) | $8134 - (1879 + 2134) =$ | | | | (2) |

Afdeling B

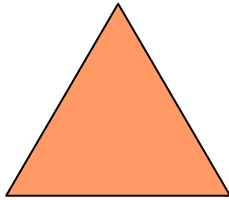
Voltooi die volgende getal patrone:

- a) 6800; 6900; _____; _____
- b) 10200; 10100; _____; _____
- c) ψ ; \square ; \square ; \square ; _____
- d) 1; 3; 5; 7; 9; _____
- e) 1234; 2335; 3436; 4537; _____ (5)

Afdeling C

Benoem die volgende 2D figure.

a)



b)

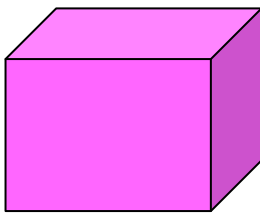


c)

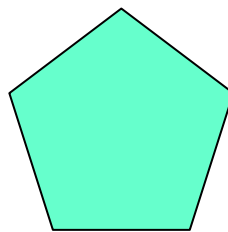


Benoem die volgende 3D figure.

a)



b)



(5)

Afdeling D

Hoeveel van die volgende muntstukke is daar in 'n rand?

a) 5c stukke = _____

b) 20c stukke = _____

(2)

c) 'n Jaar het _____ dae en 'n skrikkeljaar het _____ dae.

(2)

Voltooi:

a) 4m en 235 mm = _____ m

b) 3kg = _____ g

c) 5000ml = _____ l

(3)

Twee jaar gelede het my broer sy 21ste verjaarsdag gevier. In watter jaar is hy gebore?

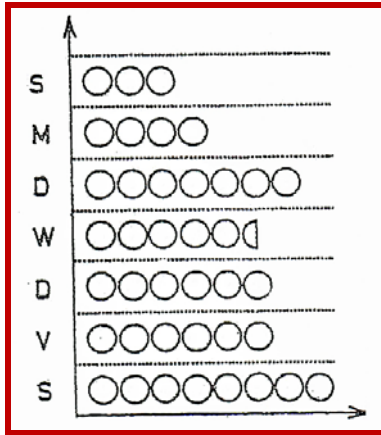
(2)

Sewe uur in die oggend word in internasionale tyd geskryf as?

(1)

Afdeling E

1. Die bedrag geld wat Frieda elke dag bestee gedurende 'n sekere week word deur die grafiek aangetoon. Elke ○ stel 10c voor. Beantwoord die volgende vrae:



- a) Hoeveel het sy op Woensdag bestee? _____
- b) Op watter dae het sy dieselfde bedrag bestee _____ en _____
- c) Wat is die verskil in die bedrae toe sy die meeste en die minste uitgegee het?

- d) Hoeveel het sy gedurende die week bestee? _____ (5)

2. Bestudeer die volgende kalender:

JANUARY							FEBRUARY							MARCH						
S	M	T	W	T	F	S	S	M	T	W	T	F	S	S	M	T	W	T	F	S
		1	2	3	4	5					1	2								1
6	7	8	9	10	11	12	3	4	5	6	7	8	9	2	3	4	5	6	7	8
13	14	15	16	17	18	19	10	11	12	13	14	15	16	9	10	11	12	13	14	15
20	21	22	23	24	25	26	17	18	19	20	21	22	23	16	17	18	19	20	21	22
27	28	29	30	31			24	25	26	27	28	29		23	24	25	26	27	28	29
														30	31					
APRIL							MAY							JUNE						
S	M	T	W	T	F	S	S	M	T	W	T	F	S	S	M	T	W	T	F	S
		1	2	3	4	5					1	2	3	1	2	3	4	5	6	7
6	7	8	9	10	11	12	4	5	6	7	8	9	10	8	9	10	11	12	13	14
13	14	15	16	17	18	19	11	12	13	14	15	16	17	15	16	17	18	19	20	21
20	21	22	23	24	25	26	18	19	20	21	22	23	24	22	23	24	25	26	27	28
27	28	29	30				25	26	27	28	29	30	31	29	30					
JULY							AUGUST							SEPTEMBER						
S	M	T	W	T	F	S	S	M	T	W	T	F	S	S	M	T	W	T	F	S
		1	2	3	4	5						1	2	1	2	3	4	5	6	
6	7	8	9	10	11	12	3	4	5	6	7	8	9	7	8	9	10	11	12	13
13	14	15	16	17	18	19	10	11	12	13	14	15	16	14	15	16	17	18	19	20
20	21	22	23	24	25	26	17	18	19	20	21	22	23	21	22	23	24	25	26	27
27	28	29	30	31			24	25	26	27	28	29	30	28	29	30				
OCTOBER							NOVEMBER							DECEMBER						
S	M	T	W	T	F	S	S	M	T	W	T	F	S	S	M	T	W	T	F	S
			1	2	3	4							1	1	2	3	4	5	6	
5	6	7	8	9	10	11	2	3	4	5	6	7	8	7	8	9	10	11	12	13
12	13	14	15	16	17	18	9	10	11	12	13	14	15	14	15	16	17	18	19	20
19	20	21	22	23	24	25	16	17	18	19	20	21	22	21	22	23	24	25	26	27
26	27	28	29	30	31		23	24	25	26	27	28	29	28	29	30	31			

- a) Hoeveel dae was daar in 1985? _____
- b) Hoeveel dae het Julie meer as Februarie? _____
- c) Hoeveel dae het die eerste drie maande saam? _____
- d) Was 1985 'n skrikkeljaar? Motiveer jou antwoord.

- e) Hoeveel ure is daar in April? _____

(10)